

METODE TERBUKA

ITERASI 1 TITIK SEDERHANA
METODE NEWTON RAPHSON

Metode Iterasi Satu Titik Sederhana

- Metode iterasi sederhana adalah metode yang memisahkan x dengan sebagian x yang lain sehingga diperoleh : $x = g(x)$.
- dikenal juga sebagai metode $x = g(x)$
- Bentuk iterasi satu titik ini dapat dituliskan dalam bentuk

$$x(n+1)=g(xn)$$

Dimana $n=0,1,2,3,\dots$

Contoh

- Gunakan metode iterasi satu titik untuk mendapatkan akar dari

$$x^3 - 3x - 20 = 0$$

- Langkah – langkah penyelesaian

- menyusun kembali persamaan tersebut dalam bentuk $x=g(x)$.

$$x = \sqrt[3]{(3x + 20)} \quad \dots\dots\dots (1)$$

$$x = \frac{x^3 - 20}{3} \quad \dots\dots\dots (2)$$

$$x = \frac{20}{x^2 - 3} \quad \dots\dots\dots (3)$$

$$x = \sqrt{\left(3 + \frac{20}{x}\right)} \quad \dots\dots\dots (4)$$

- Dari rumusan pertama dapat dinyatakan persamaan iterasinya sebagai
dengan $n = 1, 2, 3, \dots$
- Jika diambil dari nilai $x_0 = 1$, maka:

$$x_{(n+1)} = \sqrt[3]{(3x_n + 20)}$$

- Dan seterusnya. Hasilnya dapat ditabelkan sebagai berikut

$$x_1 = \sqrt[3]{(3 \times 1 + 20)} = 2.843867$$

$$x_2 = \sqrt[3]{(3 \times 2.843867 + 20)} = 3.055686$$

Nilai Iterasi dari persamaan 1

iterasi	x	g(x)	Ea
1	1	2.843867	
2	2.843867	3.055686	6.931961
3	3.055686	3.078205	0.731565
4	3.078205	3.08058	0.077088
5	3.08058	3.08083	0.008122
6	3.08083	3.080856	0.000856
7	3.080856	3.080859	9.02E-05
8	3.080859	3.080859	9.5E-06
9	3.080859	3.080859	1E-06
10	3.080859	3.080859	1.05E-07

Nilai Iterasi dari persamaan 2

iterasi	x	g(x)	Ea
1	1	-6.33333	
2	-6.33333	-91.3457	93.06663
3	-91.3457	-254070	99.96405
4	-254070	-5.5E+15	100
5	-5.5E+15	-5.4E+46	100
6	-5.4E+46	-5E+139	100
7	-5E+139		
8			
9			
10			

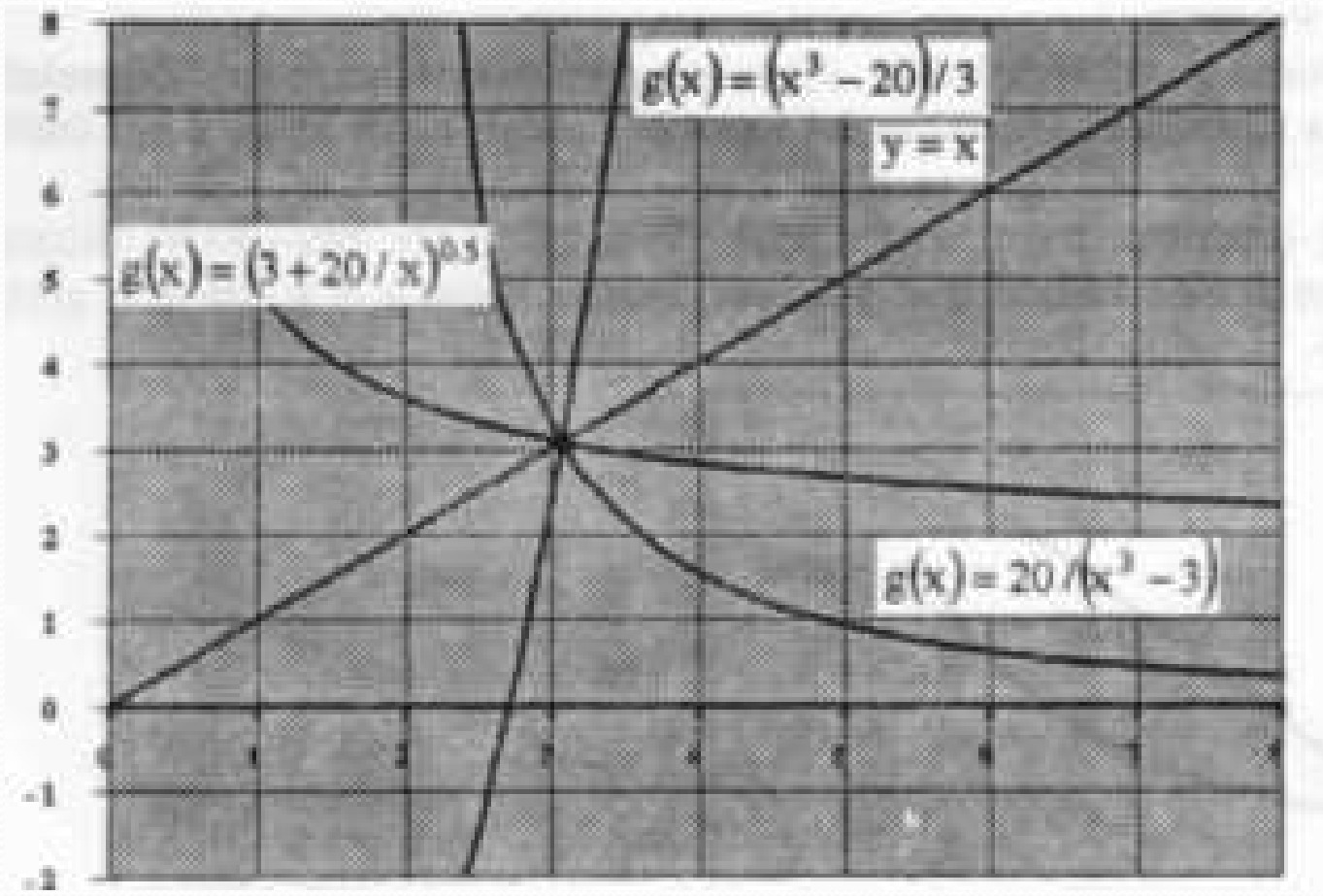
Nilai Iterasi dari persamaan 3

iterasi	x	g(x)	Ea
1	1	-10	
2	-10	0.206186	4950
3	0.206186	-6.7625	103.049
4	-6.7625	0.46804	1544.854
5	0.46804	-7.19182	106.508
6	-7.19182	0.41049	1852.007
7	0.41049	-7.0634	105.8115
8	-7.0634	0.426516	1756.071
9	0.426516	-7.09702	106.0098
10	-7.09702	0.422229	1780.847

Nilai Iterasi dari persamaan 4

iterasi	x	g(x)	Ea
1	1	4.795832	
2	4.795832	2.677739	-79.1
3	2.677739	3.235581	17.24086
4	3.235581	3.030061	-6.78272
5	3.030061	3.098472	2.207889
6	3.098472	3.074865	-0.76773
7	3.074865	3.082913	0.26104
8	3.082913	3.080158	-0.08944
9	3.080158	3.081099	0.030566
10	3.081099	3.080777	-0.01045

- Dari hasil di atas nampaknya persamaan 2 dan 3 memberikan hasil yang tidak konvergen. Persamaan 4, seperti halnya persamaan 1, mampu memberikan nilai akar yang kita cari.



Dengan meneliti grafik tampak bahwa bagi cara 2 dan 3, garis singgung $y = g(x)$ lebih tajam daripada garis singgung $y = x$ dekat nilai akar; sedangkan pada cara 1 dan cara 4, garis singgung $y = g(x)$ tidaklah setajam garis singgung $y = x$ dekat nilai $x = 3$. ini berarti nilai absolut $g'(x) < 1$ di dekat nilai akar. Dengan demikian, konvergensi dari solusi metode iterasi dapat dilacak dari perilaku turunan pertama fungsi.

Algoritma program dengan metode Iterasi

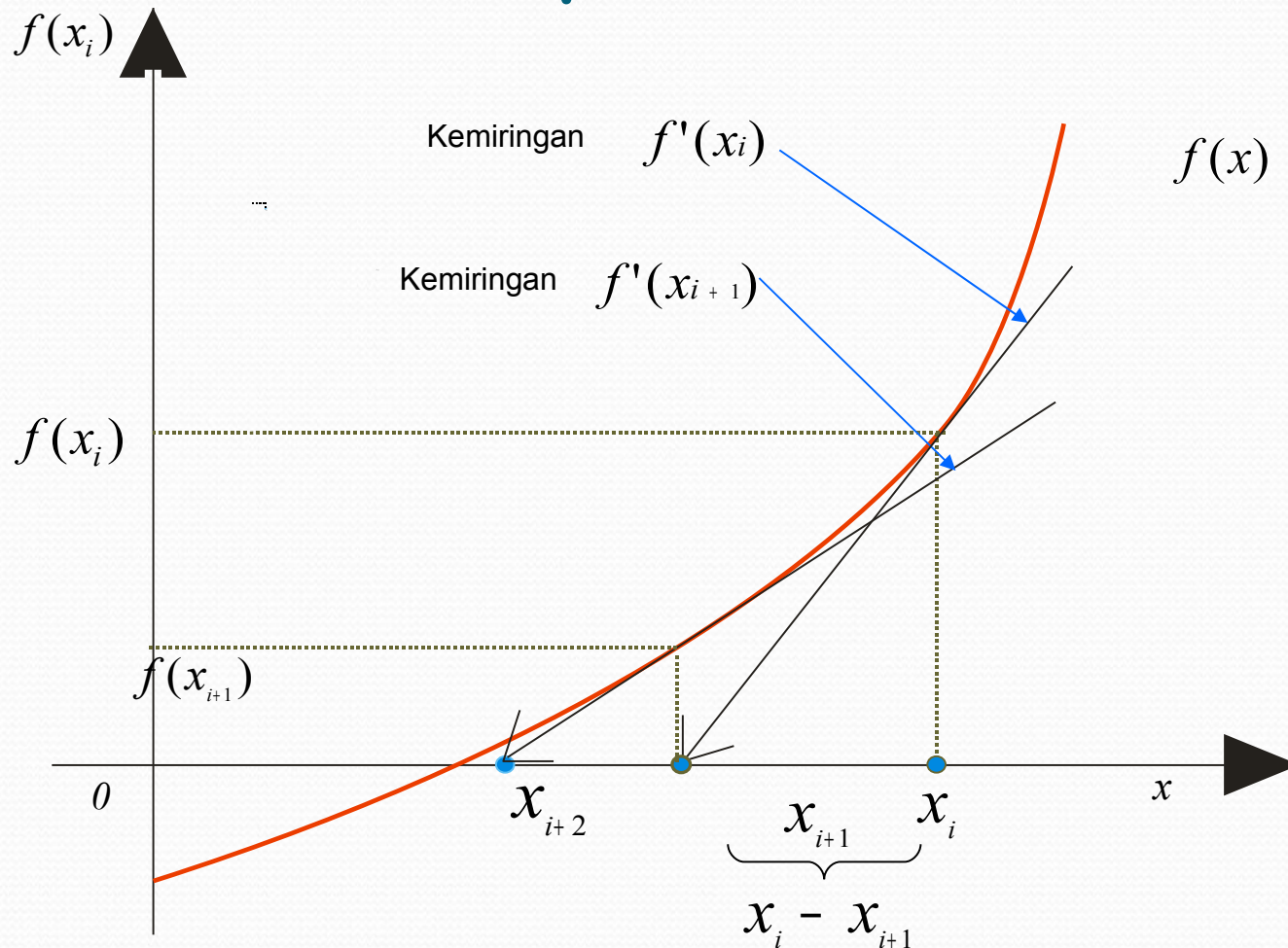
- a). Tentukan X_0 , toleransi, dan jumlah iterasi maksimum.
- b). Hitung $X_{\text{baru}} = g(X_0)$.
- c). Jika nilai mutlak $(X_{\text{baru}} - X_0) < \text{toleransi}$, diperoleh tulisan x_{baru} sebagai hasil perhitungan; jika tidak, lanjutkan ke langkah berikutnya.
- d). Jika jumlah iterasi $>$ iterasi maksimum, akhiri program.
- e). $X_0 = X_{\text{baru}}$, dan kembali ke langkah (b).

Metode Newton-Raphson

Pengertian

- Salah satu metode penyelesaian akar-akar persamaan non linier $f(x)$, dengan menentukan satu nilai **tebakan awal** dari akar yaitu x_i

Grafik Pendekatan Metode Newton-Raphson



Langkah-langkah penyelesaian Metode Newton-Raphson

Langkah 1

Cari $f(x)$ dan $f'(x)$ dari $f(x)$

Langkah 2

Tentukan titik x_0 dan Uji sesuai : $\left| \frac{f(x_0).f''(x_0)}{f'(x_0).f'(x_0)} \right| < 1$

Apakah memenuhi syarat persamaan?
Jika tidak, cari nilai x_0 baru.

Langkah 3

Lakukan *iterasi* dengan persamaan : $x_{i+1} = x_i - \frac{f(x_i)}{f'(x_i)}$

Contoh Soal:

Pernyataan Masalah:

Gunakan Metode *Newton-Raphson* untuk menaksir akar dari :

$$f(x) = e^{-x} - x$$

menggunakan sebuah tebakan awal $x_0 = 0$.

Solusi :

- Langkah 1:

Turunan pertama dan kedua dari fungsi $f(x) = e^{-x}-x$ dapat dievaluasikan sebagai :

$$\left. \begin{aligned} f'(x) &= -e^{-x} - 1 \\ f''(x) &= -e^{-x} \end{aligned} \right\} x_0 = 0$$

- Langkah 2:


Lakukan uji syarat persamaan

$$\left| \frac{f(x_0) \cdot f''(x_0)}{f'(x_0) \cdot f'(x_0)} \right| < 1 \quad \leftarrow$$

$$f(x_0) = -e^{-0} - 0 = -1$$

$$f'(x_0) = -e^{-0} - 1 = -2$$

$$f''(x_0) = -e^{-0} = -1$$



$$\left| \frac{1 \cdot (-1)}{(-2) \cdot (-2)} \right| < 1$$



$$\left| -\frac{1}{4} \right| < 1 \Rightarrow \frac{1}{4} < 1$$

memenuhi syarat persamaan, sehingga akar-akarnya dapat dicari dengan metode Newton-Raphson

- Langkah 3:

Lakukan Iterasi dengan :

$$x_{i+1} = x_i - \frac{f(x_i)}{f'(x_i)}$$

Akar x akan semakin akurat, jika nilai $f(x)$ semakin mendekati 0

Iterasi, i	x_i	$f(x_i) = e^{-x} - x$	$f'(x_i) = -e^{-x} - 1$
0	0	1	-2
1	0,500000000	0,106530659	-1,60653066
2	0,566311003	$1,304510116 \times 10^{-3}$	-1,567615513
3	0,567143165	$1,96536 \times 10^{-7}$	-1,567143362
4	0,567143290	$6,43 \times 10^{-10}$	-1,567143291

akar x_4

$f(x_4)$ dekat dengan harga 0

- Contoh

$$f(x) = x^3 - 3x - 20, \text{ maka } f'(x) = 3x^2 - 3$$

$$\text{Dengan demikian } x_{k+1} = x_k - (x_k^3 - 3x_k - 20) / (3x_k^2 - 3).$$

Perkiraan awal $x_0 = 5$

Maka:

$$f(5) = 5^3 - 3 \cdot (5) - 20 = 90$$

$$f'(5) = 3(5)^2 - 3 = 72$$

$$x_{\text{baru}} = 5 - (90/72) = 3.75$$

iterasi	x_k	x_{k+1}	$f(x_k)$	$f'(x_k)$	$F(x_{k+1})$
1	5	3.75	90	72	21.484375
2	3.75	3.201754	21.48438	39.1875	3.216661132
3	3.201754	3.085854	3.216661	27.75369344	0.127469447
4	3.085854	3.080868	0.127469	25.5674865	0.000229985
5	3.080868	3.080859	0.00023	25.47525192	7.53268E-10

Kelemahan Metode Newton-Raphson

1. Jika fungsi $f(x)$ mempunyai beberapa akar (titik) penyelesaian, akar-akar penyelesaian tersebut tidak dapat dicari secara bersamaan.
2. Tidak dapat mencari akar kompleks (imajiner).
3. Tidak bisa mencari akar persamaan yang tidak memenuhi persyaratan persamaannya, meskipun ada akar penyelesaiannya.
4. Untuk persamaan non linier yang cukup kompleks, pencarian turunan pertama dan kedua $f(x)$ akan menjadi sulit.

Algoritma

- Tentukan X_0 , toleransi, dan jumlah iterasi maksimum.
- Hitung $X_{\text{baru}} = x - f'(x_0)/f(X_0)$.
- Jika nilai mutlak $(X_{\text{baru}} - X_0) < \text{toleransi}$, diperoleh tulisan x_{baru} sebagai hasil perhitungan;
- jika tidak, lanjutkan ke langkah berikutnya.
- Jika jumlah iterasi $>$ iterasi maksimum, akhiri program.
- $X = X_{\text{baru}}$, dan kembali ke langkah (b).

Pseudocode (Matlab style)

```
es=eo           % initialize error stopping criteria with some value eo
xr=xo          % initialize the root with some value xo
iter =0        % initialize the iteration counter
ea=999         % initialize the relative error
% Begin iteration loop
while ea<es    % test to see if relative error is less then stopping criteria
    xrold = xr % update old value of root
    xr=xrold-f(xrold)/f'(xrold) % calculate new root
    iter=iter+1 % update the iteration counter
    if xr ~= 0 % update absolute relative error
        ea=abs((xr-xrold)/xr)*100 % calculate relative error
    end
end
end
root=xr        % final error
```

ALGORITMA akar_pers_metode_terbuka

DEKLARASI

```
function PersIterasi(input XI: real)→real
XR, XN, ES, EA : real;
i, IM : integer
```

DESKRIPSI

```
read(XR, ES, IM)
i←-1
while i≤ IM do
  XN←PersIterasi(XR)
  if XN←0 then
    XR←XN
  else
    EA←abs((XN-XR)/XN)*100
    if EA≤ES then
      write(XN, EA, i)
      i←IM+1
    endif
    XR←XN
  endif
  i←i+1
endwhile
if i=IM+1 then
  write('tidak ditemukan akar');
```

PRAKTIKUM MINGGU DEPAN

- Buatlah program untuk mencari akar persamaan $f(x) = -0,875x^2 + 1,75x + 2,625$ dengan iterasi satu titik sederhana dan metode Newton-Raphson. Gunakan perkiraan akar pertama 3,1 dan toleransi kesalahan 0,001%
- Buatlah sebuah *function* dari persamaan di atas untuk mengecek apakah akar (x) yang diperoleh dari langkah pertama sudah menghasilkan $f(x) = 0$
- Amati hasil program dengan 2 metode yang berbeda tersebut, tuliskan analisa anda dalam laporan.